






PLANEJAMENTO DO TRABALHO PEDAGÓGICO ESCOLA MUNICIPAL “FARID SALOMÃO”

PROFESSORA: MARIA HELENA / “1º ANO C”

PERÍODO: De 01/03/2021 a 05/02//2021

ROTINA Nº 1

<p>SEGUNDA-FEIRA (01/03)</p>	<p>TERÇA-FEIRA (02/03)</p>	<p>QUARTA-FEIRA (03/03)</p>	<p>QUINTA-FEIRA (04/03)</p>	<p>SEXTA-FEIRA (05/03)</p>
<p>ATIVIDADE DE PORTUGUÊS</p>  <p>NO CADERNO DE PORTUGUÊS-</p> <ul style="list-style-type: none">• ROTINA: CABEÇALHO,• NOME COMPLETO;• FAÇA O ALFABETO E CIRCULE AS VOGAIS. <p>USE A FICHA DE ESTUDOS CASO TENHA DÚVIDAS.</p> <p>ATIVIDADE 1- FOLHINHA NOMES PRÓPRIOS PINTE OS NOMES DOS MENINOS DA NOSSA TURMA DE VERDE, E DAS MENINAS DE VERMELHO.</p> <p>PARA FICAR MAIS LEGAL, QUE TAL OUVIRMOS A CANÇÃO QUE FALA DO ALFABETO? ACESSE O LINK: https://youtu.be/gEaERQIOiAY</p>	<p>ATIVIDADE DE MATEMÁTICA</p>  <p>NO CADERNO DE MATEMÁTICA-</p> <ul style="list-style-type: none">• ROTINA: CABEÇALHO,• NOME COMPLETO;• FAÇA OS NUMERAIS DO 1 AO 10. <p>USE A FICHA DE ESTUDOS CASO TENHA DÚVIDAS.</p> <p>ATIVIDADE 2- FOLHINHA NESTA AULA, VAMOS RELACIONAR OS NÚMEROS ÀS SUAS RESPECTIVAS QUANTIDADES.</p> <p>PARA FICAR MAIS LEGAL, QUE TAL OUVIRMOS A CANÇÃO QUE TEM OS NÚMEROS? ACESSE O LINK: https://youtu.be/orxxp-3gBiE</p>	<p>AULA PELO ZOOM</p>  <p>NESTA AULA, VAMOS PARTICIPAR DA CHAMADA PARA VERIFICAR OS ESTUDANTES QUE FALTARAM E TAMBÉM CONVERSAR SOBRE O ALFABETO.</p> <p>UTILIZAREMOS A FOLHINHA DE Nº3.</p>	<p>ATIVIDADE DE PORTUGUÊS</p>  <p>NO CADERNO DE PORTUGUÊS-</p> <ul style="list-style-type: none">• ROTINA: CABEÇALHO,• NOME COMPLETO;• FAÇA O ALFABETO E CIRCULE AS VOGAIS. <p>USE A FICHA DE ESTUDOS CASO TENHA DÚVIDAS.</p> <p>ATIVIDADE 4- FOLHINHA NOMES PRÓPRIOS QUE TAL HOJE ESCREVERMOS UM NOME DE UM COLEGA DA SALA? USE AS LETRAS QUE ESTÃO NO ANEXO, RECORTE, MONTE E COLE EM SEU CADERNO.</p>	 <p>JOGO</p> <p>USE O LINK ABAIXO PARA ENTRAR NO SITE <u>JOGOS DO CLIQUE ESCOLA.</u> LÁ IREMOS DESCOBRIR MUITAS BRINCADEIRAS. MAS HOJE IREMOS USAR A BRINCADEIRA BRINCANDO COM O ALFABETO- ENCAIXE AS LETRAS NA LAGARTA".</p> <p>LINK DO JOGO: http://www.cliqueescola.com.br/Jogos/04_Brincando_com_o_alfabeto/Lagarta/index.html</p> <p>PRONTOS? VAMOS LÁ! CASO NÃO CONSIGA VIZUALIZAR O JOGO PELO LINK- ACESSE: www.cliqueescola.com.br PROCURE PELO NOME DO JOGO: BRINCANDO COM O ALFABETO- ENCAIXE AS LETRAS NA LAGARTA.</p>

ATIVIDADE Nº 1PINTA DE VERMELHO O NOME DAS MENINAS E DE VERDE O DOS MENINOS

ALEX	DANIEL	MARIA FERNANDA	HELOISA
ISAAC	RAFAEL	MICAIAS	LARA
GUSTAVO	ISABELA	MIKAELLA	LÍVIA
MARIA ALICE	ENZO	KARLA	NICOLAS
JULIANO	NEÍLTON	SOPHIA	VICTOR HUGO
TAINÁ	MARIA EDUARDA	MARIA HELENA	RAQUEL

ESCREVA SEU NOME DENTRO DO RETÂNGULO:

QUANTAS LETRAS ELE TEM:

QUAL É A PRIMEIRA LETRA:

QUAL É A ÚLTIMA LETRA:

ATIVIDADE Nº 1PINTA DE VERMELHO O NOME DAS MENINAS E DE VERDE O DOS MENINOS

ALEX	DANIEL	MARIA FERNANDA	HELOISA
ISAAC	RAFAEL	MICAIAS	LARA
GUSTAVO	ISABELA	MIKAELLA	LÍVIA
MARIA ALICE	ENZO	KARLA	NICOLAS
JULIANO	NEÍLTON	SOPHIA	VICTOR HUGO
TAINÁ	MARIA EDUARDA	MARIA HELENA	RAQUEL

ESCREVA SEU NOME DENTRO DO RETÂNGULO:




QUANTAS LETRAS ELE TEM:

QUAL É A PRIMEIRA LETRA:

QUAL É A ÚLTIMA LETRA:




ATIVIDADE Nº 2- MATEMÁTICA
DATA: 02/03/2020

JOÃO PEDRO E SUA MÃE DESENHARAM CORAÇÕES PARA PRESENTEAR SUAS TIAS E AVÓS.
 ASSOCIE COM UMA SETA, OS NÚMEROS ÀS RESPECTIVAS QUANTIDADES DE CORAÇÕES DE CADA COLEÇÃO.

<p>4 QUATRO</p>	
<p>6 SEIS</p>	
<p>7 SETE</p>	

ATIVIDADE Nº 2- MATEMÁTICA
DATA: 02/03/2020

JOÃO PEDRO E SUA MÃE DESENHARAM CORAÇÕES PARA PRESENTEAR SUAS TIAS E AVÓS.
 ASSOCIE COM UMA SETA, OS NÚMEROS ÀS RESPECTIVAS QUANTIDADES DE CORAÇÕES DE CADA COLEÇÃO.


<p>4 QUATRO</p>	
<p>6 SEIS</p>	
<p>7 SETE</p>	

Objetivo: identificar e nomear letras do alfabeto, bem como escrever próprio nome e nome de colega autonomamente, relacionando-o com a pessoa.


LETRAS E MAIS LETRAS!

PARA ESCREVER NOSSOS NOMES, USAMOS AS LETRAS.

PRIMEIRO, ESCREVA SEU NOME NO QUADRINHO E PINTE AS LETRAS QUE FAZEM PARTE DELE! FAÇA UM DESENHO DE SEU ROSTO PARA ILUSTRAR!



AGORA, ESCREVA O NOME DE UM COLEGA DA TURMA, PINTE AS LETRAS QUE FAZEM PARTE DE SEU NOME E FAÇA UM DESENHO DELE, PARA ILUSTRAR!



RECORTE, MONTE E DEPOIS COLE OS NOMES DOS AMIGOS NO CADERNO DE PORTUGUÊS.

L	A	D	I	N	E
---	---	---	---	---	---

COLE AQUI AS LETRAS QUE FORMAM O NOME DO AMIGO:
DANIEL

--	--	--	--	--	--

T	I	N	Á	A
---	---	---	---	---

COLE AQUI AS LETRAS QUE FORMAM O NOME DA AMIGA:
TAINÁ

--	--	--	--	--

PLANEJAMENTO DO TRABALHO PEDAGÓGICO ESCOLA MUNICIPAL “FARID SALOMÃO”

PROFESSORA: MARIA HELENA / “1º ANO C”

PERÍODO: De 08/03/2021 a 12/03//2021

ROTINA Nº 2

SEGUNDA-FEIRA (08/03)	TERÇA-FEIRA (09/03)	QUARTA-FEIRA (10/03)	QUINTA-FEIRA (11/03)	SEXTA-FEIRA (12/03)
<p>ATIVIDADE DE PORTUGUÊS</p>  <p>NO CADERNO DE PORTUGUÊS-</p> <ul style="list-style-type: none">• ROTINA: CABEÇALHO,• NOME COMPLETO;• FAÇA O ALFABETO E CIRCULE AS VOGAIS. <p>USE A FICHA DE ESTUDOS CASO TENHA DÚVIDAS.</p> <p>ATIVIDADE 1- FOLHINHA</p> <p>NESTA AULA, VAMOS ESCREVER E RECITAR A PARLENDA SUCO QUENTE. FIQUE ATENTO PARA NÃO ERRAR! APÓS, COMPLETE O ALFABETO.</p> <p>PARA FICAR MAIS LEGAL, QUE TAL ASSISTIR O VÍDEO SOBRE O ALFABETO:</p> <p>LINK: https://www.youtube.com/watch?v=EvHkQGyiZLk</p>	<p>ATIVIDADE DE MATEMÁTICA</p>  <p>NO CADERNO DE MATEMÁTICA-</p> <ul style="list-style-type: none">• ROTINA: CABEÇALHO,• NOME COMPLETO;• FAÇA OS NUMERAIS DO 10 AO 20. <p>USE A FICHA DE ESTUDOS CASO TENHA DÚVIDAS.</p> <p>ATIVIDADE 2- FOLHINHA</p> <p>COLEÇÕES E CONTAGENS NESTA AULA, VAMOS CONTAR OS ELEMENTOS DE DUAS COLEÇÕES E REGISTRAR OS RESULTADOS.</p> <p>PARA FICAR MAIS LEGAL, QUE TAL ASSISTIR O VÍDEO SOBRE NÚMEROS E CONTAGENS:</p> <p>ACESSE O LINK: https://youtu.be/qNBWqy5bCzk</p>	<p>AULA PELO ZOOM</p>  <p>NESTA AULA, VAMOS PARTICIPAR DA LEITURA DE UM CONTO- MINHA PROFESSORA É UM MONSTRO, DE PETER BROWN. APÓS, CONVERSAREMOS SOBRE O ASSUNTO, FAÇA UMA ILUSTRAÇÃO DA HISTÓRIA.</p> <p>HORA DA HISTÓRIA</p>  <p>UTILIZAREMOS A FOLHINHA DE Nº3.</p>	<p>ATIVIDADE DE PORTUGUÊS</p>  <p>NO CADERNO DE PORTUGUÊS-</p> <ul style="list-style-type: none">• ROTINA: CABEÇALHO,• NOME COMPLETO;• FAÇA O ALFABETO E CIRCULE AS VOGAIS. <p>USE A FICHA DE ESTUDOS CASO TENHA DÚVIDAS.</p> <p>ATIVIDADE 4- FOLHINHA</p> <p>CANTIGA A CANOA VIROU</p>  <p>A CANOA VIROU POIS DEIXARAM ELA VIRAR FOI POR CAUSA DO(A) _____ QUE NÃO SOUBE REMAR SE EU FOSSE UM PEIXINHO E SOUBESSE MADAR EU TRAVA CIA) _____ DO FUNDO DO MAR.</p>	<p>JOGO</p>  <p>USE O LINK ABAIXO PARA ENTRAR NO SITE JOGOS DO CLIQUE ESCOLA. LÁ IREMOS DESCOBRIR MUITAS BRINCADEIRAS. MAS HOJE IREMOS USAR A BRINCADEIRA CONTAGEM ATÉ 10- CONTAR AS CAIXAS NO CAMINHÃO. LINK DO JOGO: http://www.cliqueescola.com.br/Jogos/23_Contagem_10/Caixas_caminhao/index.html PRONTOS? VAMOS LÁ! CASO NÃO CONSIGA VIZUALIZAR O JOGO PELO LINK- ACESE: www.cliqueescola.com.br PROCURE PELO NOME DO JOGO: BRINCADEIRA CONTAGEM ATÉ 10- CONTAR AS CAIXAS NO CAMINHÃO.</p>

ATIVIDADE Nº1
DATA: 08/03/2021
PARLENDAS- SUCO QUENTE

SUCO QUENTE
CABELO DIFERENTE
QUAL É A LETRA DO SEU CONFIDENTE?

COMPLETE O ALFABETO:

A		C	D	E	
					L
	N	O		Q	
S			V		X
	Z				

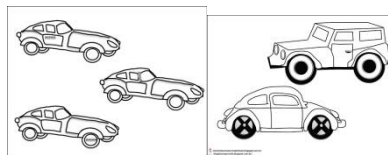
AGORA QUE VOCÊ APRENDEU A PARLENDAS QUE TAL, DESENHAR?
CAPRICHE!

SUCO QUENTE	CABELO DIFERENTE
QUAL É A LETRA	DO SEU CONFIDENTE?

ATIVIDADE Nº 2- MATEMÁTICA
DATA: 09/03/2021

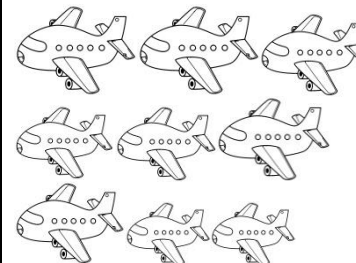
JOÃO PEDRO E SUA MÃE GOSTAM DE COLECIONAR MINIATURAS DE CARROS, MOTOS E AVIÕES. HOJE ELES ORGANIZARAM AS COLEÇÕES DE CARROS E DE AVIÕES.

CONTE QUANTAS MINIATURAS DE CARROS JOÃO PEDRO E SUA MÃE ORGANIZARAM E REGISTRE A QUANTIDADE NA LINHA ABAIXO.



REGISTRE NA LINHA A QUANTIDADE DE CARROS.

JOÃO PEDRO ORGANIZOU AS MINIATURAS DE AVIÕES. QUANTAS ELE TEM? REGISTRE NA LINHA ABAIXO O RESULTADO.



REGISTRE NA LINHA A QUANTIDADE DE AVIÕES.

QUE TAL AGORA COMPLETAR O QUADRO COM OS NÚMEROS QUE ESTÃO FALTANDO?

1		3		5
6				

ATIVIDADE Nº3- AULA PELO ZOOM

DATA 10/03/2021

DEPOIS DE OUVIR A HISTÓRIA- “MINHA PROFESSORA É UM MONSTRO”- DE PETER BROW, DESENHE VOCÊ E A SUA PROFESSORA. CAPRICHE!

ATIVIDADE Nº 4- PORTUGUÊS- A CANOA VIROU

DATA: 11/03/2021

VAMOS CANTAR E BRINCAR JUNTOS. DEPOIS, VAMOS COLORIR O PEIXINHO DESENHADO NA FOLHA.

A CANOA VIROU

POIS DEIXARAM ELA VIRAR

FOI POR CAUSA DO(A) _____

QUE NÃO SOUBE REMAR

SE EU FOSSE UM PEIXINHO

E SOUBESSE NADAR

EU TIRAVA O(A) _____

DO FUNDO DO MAR.

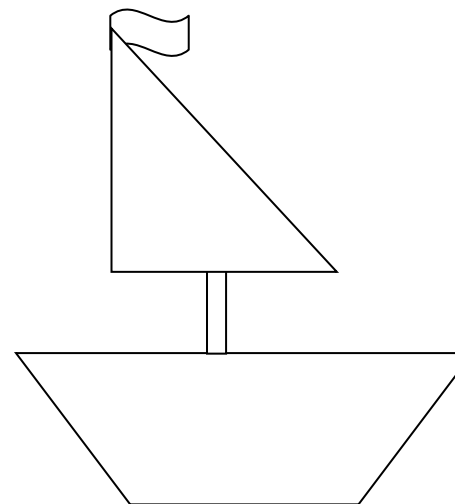
(Origem Popular)



A CANOA VIROU

**FOI DEIXAR ELA VIRAR
FOI POR CAUSA DO(A)**

QUE NÃO SOUBE REMAR








PLANEJAMENTO DO TRABALHO PEDAGÓGICO ESCOLA MUNICIPAL “FARID SALOMÃO”

PROFESSORA: MARIA HELENA / “1º ANO C”

PERÍODO: De 15/03/2021 a 19/03//2021

ROTINA Nº 3

SEGUNDA-FEIRA (15/03)	TERÇA-FEIRA (16/03)	QUARTA-FEIRA (17/03)	QUINTA-FEIRA (18/03)	SEXTA-FEIRA (19/03)
<p>ATIVIDADE DE PORTUGUÊS</p>  <p>NO CADERNO DE PORTUGUÊS-</p> <ul style="list-style-type: none">• ROTINA: CABEÇALHO,• NOME COMPLETO;• FAÇA O ALFABETO E CIRCULE AS VOGAIS. <p>USE A FICHA DE ESTUDOS CASO TENHA DÚVIDAS.</p> <p>ATIVIDADE 1- FOLHINHA FAÇA NO CADERNO. NESTA AULA, VAMOS ESCREVER ALGUMAS BRINCADEIRAS CONHECIDAS PELA NOSSA FAMÍLIA E DEPOIS ESCOLHER UMA PARA DESENHAR.</p> <p>PARA FICAR MAIS LEGAL, QUE TAL ASSISTIR O VÍDEO SOBRE BRINCADEIRAS ANTIGAS. LINK: https://www.youtube.com/watch?v=_6dOZPWQ9Cs</p>	<p>ATIVIDADE DE MATEMÁTICA</p>  <p>NO CADERNO DE MATEMÁTICA-</p> <ul style="list-style-type: none">• ROTINA: CABEÇALHO,• NOME COMPLETO;• FAÇA OS NUMERAIS DO 20 AO 30. <p>USE A FICHA DE ESTUDOS CASO TENHA DÚVIDAS.</p> <p>ATIVIDADE 2- FOLHINHA QUADRO DE NÚMEROS E SEQUÊNCIA DE NÚMEROS. VERIFICAR SE A CRIANÇA RECONHECE OS NÚMEROS.</p> <p>PARA FICAR MAIS LEGAL, QUE TAL ASSISTIR O VÍDEO SOBRE NÚMEROS E CONTAGENS:</p> <p>ACESSE O LINK: https://www.youtube.com/watch?v=nTrgYOzpnDA</p>	<p>AULA PELO ZOOM</p>  <p>NESTA AULA, VAMOS PARTICIPAR DE UMA LEITURA CONTADA. O QUATI E SUA CASA APÓS, CONVERSAREMOS SOBRE O ASSUNTO, QUE TAL USAR A CRIATIVIDADE E DESENHAR O BICHO QUE VOCÊ TEM MAIS MEDO.</p> <p>HORA DA HISTÓRIA</p>  <p>UTILIZAREMOS A FOLHINHA DE Nº3.</p> <p>Link da história: https://youtu.be/JRhApcfuubQ</p>	<p>ATIVIDADE DE PORTUGUÊS</p>  <p>NO CADERNO DE PORTUGUÊS-</p> <ul style="list-style-type: none">• ROTINA: CABEÇALHO,• NOME COMPLETO;• FAÇA O ALFABETO E CIRCULE AS VOGAIS. <p>USE A FICHA DE ESTUDOS CASO TENHA DÚVIDAS.</p> <p>ATIVIDADE 4- FOLHINHA NESTA AULA, VAMOS CONVERSAR SOBRE UMA PESQUISA DE BRINCADEIRAS PREFERIDAS. FAÇA UMA ENQUETE COM SUA FAMÍLIA USANDO A TABELA. APÓS, MARQUE UM “X” NA BRINCADEIRA PREFERIDA PELA FAMÍLIA.</p>	<p>JOGO</p>  <p>USE O LINK ABAIXO PARA ENTRAR NO SITE JOGOS DO CLIQUE ESCOLA. LÁ IREMOS DESCOBRIR MUITAS BRINCADEIRAS. MAS HOJE IREMOS USAR A BRINCADEIRA CONTAGEM ATÉ 10- COMBINANDO NÚMEROS.</p> <p>LINK DO JOGO: http://www.cliqueescola.com.br/Jogos/23_Contagem_10/Combinando_numeros/index.html PRONTOS? VAMOS LÁ! CASO NÃO CONSIGA VIZUALIZAR O JOGO PELO LINK- ACESE: www.cliqueescola.com.br PROCURE PELO NOME DO JOGO: BRINCADEIRA CONTAGEM ATÉ 10- COMBINANDO NÚMEROS.</p>

ATIVIDADE DE PORTUGUÊS**DATA: 15/03/2021**

DEPOIS DE FAZER UMA LISTA DAS BRINCADEIRAS PREFERIDAS DA FAMÍLIA, ESCOLHA UMA QUE VOCÊ MAIS GOSTA E DESENHE NO QUADRO A SEGUIR.

NOME DA BRINCADEIRA ESCOLHIDA: _____

ATIVIDADE Nº2- MATEMÁTICA**DATA: 16/03/2021**

JULIANA MOSTROU A SEU FILHO JOÃO PEDRO UMA SEQUÊNCIA DE NÚMEROS E PEDIU A ELE QUE INDICASSE OS NÚMEROS QUE ELA FOSSE DIZENDO.

1	2	3	4	5	6	7	8	9	10
---	---	---	---	---	---	---	---	---	----

PROCURE PELOS NÚMEROS EM DESTAQUE E PINTE NO QUADRO DE NÚMEROS.

1-3-9-5

.....

ATIVIDADE Nº3- AULA PELO ZOOM**DATA: 17/03/2021**

DESENHE NO ESPAÇO ABAIXO, O BICHO QUE VOCÊ TEM MAIS MEDO.

NOME DO BICHO: _____

ATIVIDADE Nº4- PORTUGUÊS

DATA: 18/03/2021

FAÇA UMA ENQUETE COM SUA FAMÍLIA USANDO A TABELA ABAIXO: QUAL É A BRINCADEIRA PREFERIDA DA SUA FAMÍLIA?

BRINCADEIRAS	MARQUE UM "X"
BOLINHA DE GUDE	
PULA CORDA	
PEGA-PEGA	
ESCONDE-ESCONDE	
COELHINHO SAI DA TOCA	
AMARELINHA	

ESCREVA O NOME DE OUTRA BRINCADEIRA QUE NÃO APARECEU NA ENQUETE:








NOME DA BRINCADEIRA: _____

COMPLETE OS NOMES DAS BRINCADEIRAS COM AS VOGAIS QUE ESTÃO FALTANDO.

Escola: _____
Data: _____ Turma: _____ **EDUCALUNOS.COM**
Aluno: _____

QUAL É A LETRA?

COMPLETE OS NOMES DAS FIGURAS COM AS LETRAS QUE ESTÃO FALTANDO.

 P _ _ T _ _ C _ _	 C _ _ R D _ _	 B _ _ C _ _ C L _ _ T _ _
 B _ _ N _ _ C _ _	 C _ _ R R _ _ N H _ _	 P _ _ T _ _ N S
 B _ _ L _ _	 P _ _ _ _	 P _ _ P _ _

PLANEJAMENTO DO TRABALHO PEDAGÓGICO ESCOLA MUNICIPAL “FARID SALOMÃO”

PROFESSORA: MARIA HELENA / “1º ANO C”

PERÍODO: De 22/03/2021 a 26/03//2021

ROTINA Nº 4

SEGUNDA-FEIRA (22/03)	TERÇA-FEIRA (23/03)	QUARTA-FEIRA (24/03)	QUINTA-FEIRA (25/03)	SEXTA-FEIRA (26/03)
<p>ATIVIDADE DE PORTUGUÊS</p>  <p>NO CADERNO DE PORTUGUÊS-</p> <ul style="list-style-type: none">• ROTINA: CABEÇALHO,• NOME COMPLETO;• FAÇA O ALFABETO E CIRCULE AS VOGAIS. <p>USE A FICHA DE ESTUDOS CASO TENHA DÚVIDAS.</p> <p>ATIVIDADE 1- FOLHINHA</p> <p>NESTA AULA, IREMOS ESCREVER UMA LISTA DE 4 CONTOS CONHECIDOS.</p> <p>HOJE É O DIA MUNDIAL DA ÁGUA. QUE TAL ASSISTIRMOS UMA CANÇÃO QUE FALA DA IMPORTÂNCIA DELA? E VOCÊ? JÁ ECONOMIZOU ÁGUA HOJE?</p> <p>https://youtu.be/bkr1wS8D-6A</p> <p>DEPOIS DE ASSITIR QUE TAL DESCOBRIRMOS O QUE A MÔNICA IRÁ BEBER?</p>	<p>ATIVIDADE DE MATEMÁTICA</p>  <p>NO CADERNO DE MATEMÁTICA-</p> <ul style="list-style-type: none">• ROTINA: CABEÇALHO,• NOME COMPLETO;• FAÇA OS NUMERAIS DO 30 AO 40. <p>USE A FICHA DE ESTUDOS CASO TENHA DÚVIDAS.</p> <p>ATIVIDADE 2- FOLHINHA</p> <p>NESTA AULA, VAMOS LER E ESCREVER NÚMEROS. LEIA OS NÚMROS JUNTO COM ALGUM FAMILIAR E DEPOIS ESCREVA OS NÚMEROS DITADOS POR ELE DENTRO DOS RETÂNGULOS. APÓS, CONTE OS PEIXINHOS DO AQUÁRIO E COLOQUE A QUANTIDADE DENTRO DOS QUADRINHOS.</p>	<p>AULA PELO ZOOM</p>  <p>NESTA AULA, VAMOS PARTICIPAR DE UMA LEITURA CONTADA. O CAMELO, O BURRO E A ÁGUA- MARINA BASTOS. APÓS, CONVERSAREMOS SOBRE O ASSUNTO.</p> <p>HORA DA HISTÓRIA</p>  <p>Link da história:</p> <p>https://youtu.be/jEW-m6gbRQY</p>	<p>ATIVIDADE DE PORTUGUÊS</p>  <p>NO CADERNO DE PORTUGUÊS-</p> <ul style="list-style-type: none">• ROTINA: CABEÇALHO,• NOME COMPLETO;• FAÇA O ALFABETO E CIRCULE AS VOGAIS. <p>USE A FICHA DE ESTUDOS CASO TENHA DÚVIDAS.</p> <p>ATIVIDADE 3- FOLHINHA</p> <p>ANTES DE FAZER A LIÇÃO, QUE TAL OUVIRMOS UMA HISTÓRIA? OUÇA A HISTÓRIA DE CHAPEUZINHO VERMELHO PARA RESPONDER AS QUESTÕES DA FOLHINHA.</p> <p>LINK:</p> <p>https://www.youtube.com/watch?v=GVEb9K9lyzQ</p>	<p>JOGO</p>  <p>USE O LINK ABAIXO PARA ENTRAR NO SITE JOGOS DO CLIQUE ESCOLA. LÁ IREMOS DESCOBRIR MUITAS BRINCADEIRAS. MAS HOJE IREMOS USAR A BRINCADEIRA CONTAGEM ATÉ 10- RELACIONAR NÚMERO A QUANTIDADE. LINK DO JOGO:</p> <p>http://www.cliquecola.com.br/Jogos/23_Contagem_10/Numero_quantidade/index.html</p> <p>PRONTOS? VAMOS LÁ! CASO NÃO CONSIGA VIZUALIZAR O JOGO PELO LINK- ACESSE: www.cliqueescola.com.br</p> <p>PROCURE PELO NOME DO JOGO: BRINCADEIRA CONTAGEM ATÉ 10- RELACIONAR NÚMERO A QUANTIDADE.</p> <p>AMANHÃ SERÁ O DIA DO CIRCO. QUE TAL</p>

ESCOLA: _____
NOME: _____
22 de Março Dia da Água

↓ DECIFRE O CÓDIGO E DESCUBRA O QUE A MÔNICA
VAI BEBER.

A
U
G



**ASSISTIRMOS UM FILME?
APROVEITE PARA
RECORDAR DE TODOS OS
ARTISTAS QUE
TRABALHAM NESTA
ÁREA.
LINK:
[https://www.youtube.com/
watch?v=n5mJQhwS0oc](https://www.youtube.com/watch?v=n5mJQhwS0oc)**

QUAL É O CONTO?

OBSERVE AS IMAGENS DE ALGUNS CONTOS DE FADA ABAIXO. PINTe CADA CÍRCULO UMA COR DIFERENTE E ESCREVA O NOME DO CONTO AO QUAL SE REFEREM:



USE O BANCO DE PALAVRAS

BRANCA DE NEVE E OS SETE ANÕES

CINDERELA

CHAPUZINHO VERMELHO

RAPUNZEL

AGORA, LEIA CADA FRASE, DESCUBRA A QUAL CONTO DE FADAS SE REFERE E PINTe CÍRCULOS DAS CORES CORRESPONDENTES À LEGENDA QUE VOCÊ CRIOU:



A MADRASTA TEM UM ESPELHO MÁGICO.



VOVÓ FICOU DOENTE E A MENINA LHE LEVA DOCES, PARA AGRADAR.



ELA VIVE EM UMA CASA COM A MADRASTA E AS DUAS FILHAS DA MADRASTA.



A PRINCESA FICA PRESA EM UMA TORRE NO MEIO DE UMA FLORESTA.



A MOÇA PERDE UM DE SEUS SAPATINHOS NO MOMENTO EM QUE SAI DO GRANDE BAILE DO CASTELO.



O LOBO MAU ESTÁ FAMINTO E PRETENDE SABOREAR A VOVÓ E A NETINHA.




A PRINCESA ENCONTRA ABRIGO NA FLORESTA, EM UMA CASA ONDE MORAM 7 ANÕES.



A ÚNICA FORMA DE ENTRAR NA TORRE É ESCALAR OS LONGOS CABELOS DA PRINCESA.

QUAL DESSES CONTOS É O SEU FAVORITO? USE O ESPAÇO ABAIXO PARA FAZER DESENHO DELE:



PORTUGUÊS- ATIVIDADE SOBRE A ÁGUA

DIA:22/03/2021

ESCOLA _____

NOME _____

22 de Março Dia da Água

◆ DECIFRE O CÓDIGO E DESCUBRA O QUE A MÔNICA VAI BEBER.

A U G



Idéia: Cristhian-Gil Barbosa

ATIVIDADE Nº 2- MATEMÁTICA

DATA: 23/03/2021

LEITURA E ESCRITA DE NÚMEROS

JULIANA ESCREVEU OS NÚMEROS EM CARTELAS.

LEIA JUNTO COM UM FAMILIAR OS NÚMEROS ABAIXO. APÓS PEÇA A ELE PARA DITAR ALGUNS NÚMEROS PARA VOCÊ COLOCAR NOS RETÂNGULOS ABAIXO.

9	6	5	12	6
16	7	10	3	17
19				

ESCREVA OS NÚMEROS NOS RETÂNGULOS ABAIXO QUE SEU FAMILIAR IRÁ DITAR:

--	--	--	--

Objetivo: desenvolver estratégias de contagem, registrando números convencionalmente, bem como calcular adições simples.

AQUÁRIOCHEIO



ATIVIDADE Nº 3- PORTUGUÊS
DATA: 25/03/2021

LEIA AS PALAVRAS ABAIXO E PINTE SOMENTE AS QUE APARECEM NA HISTÓRIA DA CHAPEUZINHO VERMELHO:

ANÃO	VOVÓ	RAINHA
SAPO	LOBO	PORQUINHOS
DOCE	GIGANTE	MAÇÃ



Armário do Professor

PLANEJAMENTO DO TRABALHO PEDAGÓGICO ESCOLA MUNICIPAL “FARID SALOMÃO”

PROFESSORA: MARIA HELENA / “1º ANO C”

PERÍODO: De 29/03/2021 a 02/04//2021

ROTINA Nº 5

SEGUNDA-FEIRA (29/03)	TERÇA-FEIRA (30/03)	QUARTA-FEIRA (31/03)	QUINTA-FEIRA (01/04)	SEXTA-FEIRA (02/04)
<p>ATIVIDADE DE PORTUGUÊS</p>  <p>NO CADERNO DE PORTUGUÊS-</p> <ul style="list-style-type: none">• ROTINA: CABEÇALHO,• NOME COMPLETO;• FAÇA O ALFABETO E CIRCULE AS VOGAIS. <p>USE A FICHA DE ESTUDOS CASO TENHA DÚVIDAS.</p> <p>ATIVIDADE 1- FOLHINHA</p> <p>INTERPRETAÇÃO DE TEXTO. DEPOIS DE OUVIR A HISTÓRIA DE CHAPEUZINHO VERMELHO, RESPONDA AS PERGUNTAS.</p> <p>CASO VOCÊ NÃO SE LEMBRE DA HISTÓRIA, VOU COLOCAR O LINK AQUI NOVAMENTE:</p> <p>LINK:</p> <p>https://www.youtube.com/watch?v=GVEb9K9lyzQ</p>	<p>ATIVIDADE DE MATEMÁTICA</p>  <p>NO CADERNO DE MATEMÁTICA-</p> <ul style="list-style-type: none">• ROTINA: CABEÇALHO,• NOME COMPLETO;• FAÇA OS NUMERAIS DO 40 AO 50. <p>USE A FICHA DE ESTUDOS CASO TENHA DÚVIDAS.</p> <p>ATIVIDADE 2- FOLHINHA</p> <p>SEQUÊNCIA CIRCO</p> <p>OBJETIVO: DESENVOLVER ESTRATÉGIAS DE CONTAGEM E REGISTRAR NÚMEROS MENORES QUE 10 CONVENCIONALMENTE.</p> <p>ATIVIDADE Nº 3-FOLHINHA</p> <p>SEQUÊNCIA CIRCO.</p> <p>RESOLVA AS SITUAÇÕES PROBLEMA. FAÇA DESENHOS PARA AJUDAR ENCONTRAR OS RESULTADOS.</p>	<p>AULA PELO ZOOM</p>  <p>NESTA AULA, VAMOS PARTICIPAR DE UMA BRINCADEIRA MUITO CONHECIDA.</p> <p>O BINGO!</p> <p>PEGUE SUA CARTELA E VAMOS JOGAR!</p> <p>ATIVIDADE Nº 4- BINGO DE LETRAS</p>	<p>PONTO FACULTATIVO</p>	<p>FERIADO - SEMANA SANTA</p>

ATIVIDADES DA SEMANA DE 29/03 À 02/04/2021
ATIVIDADE Nº1 PORTUGUÊS
DATA: 22/03/2021
INTERPRETAÇÃO DE TEXTO.

• O QUE A MÃE DE CHAPEUZINHO VERMELHO LHE DISSE ANTES DE SAIR DE CASA?

QUE CONVERSASSE COM ESTRANHOS.

QUE NÃO CONVERSASSE COM ESTRANHOS.

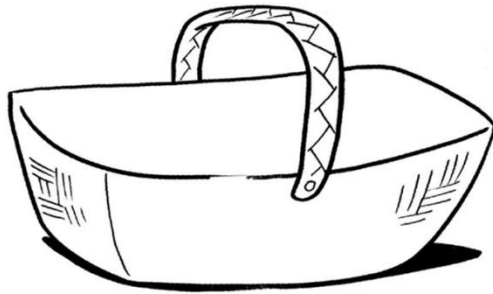
• CHAPEUZINHO VERMELHO OBEDECEU À SUA MÃE?

SIM, PORQUE ELA NÃO CONVERSOU COM UM ESTRANHO.

NÃO, PORQUE ELA CONVERSOU COM O LOBO MAU, QUE ELA NÃO CONHECIA.

A CESTA DA VOVÓ

CHAPEUZINHO VERMELHO LEVOU ALIMENTOS PARA VOVÓ DENTRO DA CESTA. E VOCÊ, O QUE VAI LEVAR PARA SUA VOVÓ DENTRO DA CESTA?



ATIVIDADE Nº 2- MATEMÁTICA
DATA: 25/03/2021
SEQUÊNCIA DIA DO CIRCO

Objetivo: desenvolver estratégias de contagem e registrar números menores que 10 convencionalmente.

OPALHAÇO MALABARISTA




OSPALHAÇOS ESTÃO FAZENDO MALABARISMO COM BOLAS. CONTEA QUANTIDADE DE BOLAS DE CADA PALHAÇO E ANOTE.



ATIVIDADE Nº 4- AULA PELO ZOOM

DATA:31/03/2021

BINGO DE LETRAS!!

	E	Y	A
B		F	L
P	T	Z	

BOA SORTE!

ATIVIDADE Nº 3- MATEMÁTICA

DATA: 30/032021

Objetivo: desenvolver a interpretação de situações-problema, bem como aprimorar o cálculo de subtração.

OPALHAÇO PIPOCA

OPALHAÇO PIPOCA TINHA UM PACOTE COM 9 BALÕES PARA FAZER SUA APRESENTAÇÃO NO CIRCO. ELEJÁ USOU 5 BALÕES. QUANTOSBALÕES LHE RESTARAM NO PACOTE?



CALCULEAQUI!

RESTARAM ____ BALÕES NO PACOTE.

OPALHAÇO SUSPIRO

OPALHAÇO SUSPIRO É BEM POPULAR NO CIRCO "COSQUINHA". EM UM ESPETÁCULO ELE APARECEU 3 VEZES NO COMEÇO DA APRESENTAÇÃO E MAIS 2 NO FINAL. QUANTAS VEZES ELE APARECEU?



CALCULEAQUI!

ELEAPARECEU ____ VEZES NA APRESENTAÇÃO.

